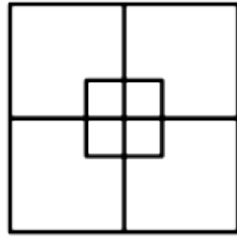


SCHEDA

Quanti quadrati? (facile)

Quanti quadrati ci sono nella figura a fianco?

Disegna uno schema per dimostrare la tua risposta.

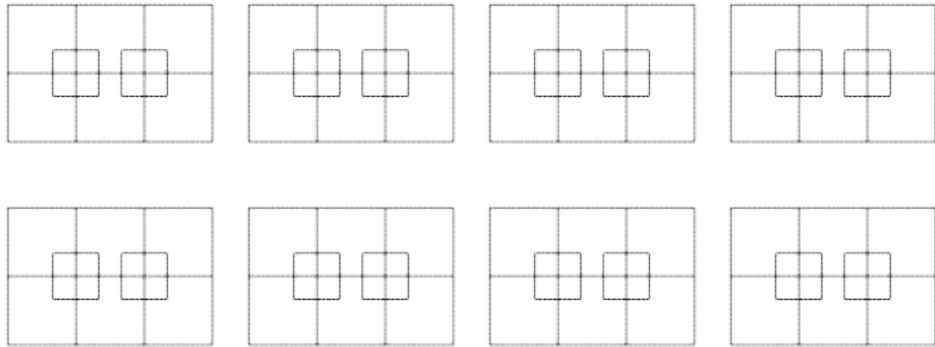
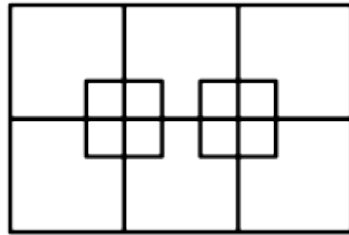


Quanti quadrati? (media difficoltà)

Quanti quadrati ci sono nella figura a fianco?

Usa i seguenti schemi per contarli tutti e dimostrare il risultato.

Se necessario, disegna altri schemi.



Quanti quadrati? (difficile)

Quanti quadrati ci sono nella figura a fianco?

Usa i seguenti schemi per contarli tutti e dimostrare il risultato.

Se necessario, disegna altri schemi.

